

地理试卷

2019.5

学校 _____ 班级 _____ 姓名 _____ 教育 ID 号 _____

考生须知	1. 本试卷共 14 页,共 90 分。考试时间 90 分钟。 2. 在试卷和答题卡上准确填写学校、班级、姓名和教育 ID 号。 3. 试题答案一律填涂或书写在答题卡上,在试卷上作答无效。 4. 在答题卡上,选择题用 2B 铅笔作答,其他试题用黑色字迹签字笔作答。 5. 考试结束,将本试卷、答题卡一并交回。
-------------	--

一、单项选择题(每小题 1 分,共 40 分)

与 2018 年相比,2019 年春运有诸多变化。表 1 为 2019 年春运第一周统计数据。图 1 为春运期间铁路回家耗时大数据。据图文资料,完成 1~5 题。

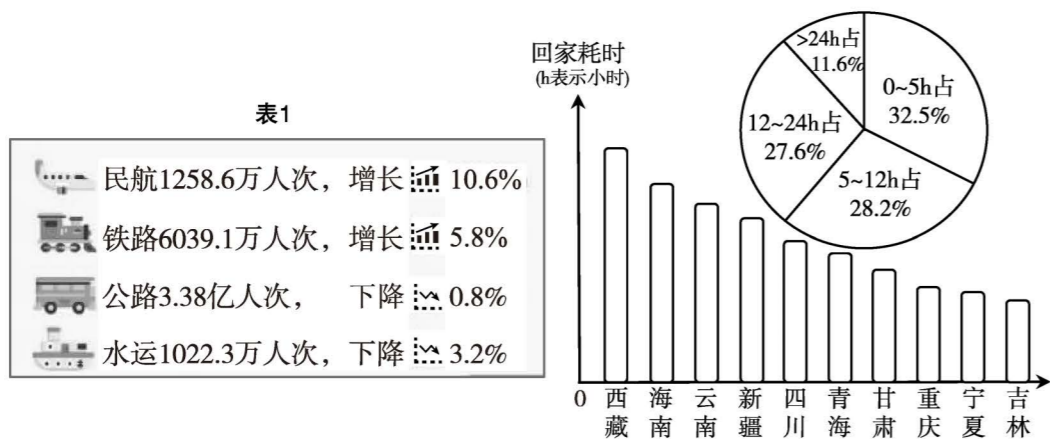


图 1

- 运营人次增长幅度最大的交通运输方式是

A. 铁路 B. 公路 C. 航空 D. 水运
- 运输人次最多的交通方式是

A. 铁路 B. 公路 C. 航空 D. 水运
- 乘火车在 12 小时之内能到家的占比

A. 约 30% B. 约 40% C. 约 50% D. 约 60%
- 乘火车回家耗时最长的省会及自然原因是

A. 海口——气温高,降水多 B. 昆明——地势高,车次少

C. 拉萨——海拔高,距离远 D. 拉萨——车次少,运量小

- 平原地区,高铁建设多采用高架桥梁,主要为了

A. 减少噪音扰民 B. 较少占用耕地

C. 缩短运营里程 D. 降低技术要求

2019 年 3 月 6 日 5 时迎来惊蛰节气。古籍《月令七十二候集解》中说:“二月节万物出于震,震为雷,故曰‘惊蛰’,是蛰虫惊而出走矣”。此时节,气温和地温都逐渐升高,春雷唤雨、百花绽放、土壤解冻,我国部分地区进入春耕,地头田间一片繁忙景象。图 2 为 1971—2000 年各地初雷日期统计图。图 3 为地球公转示意图。据图文资料,完成 6~11 题。



图 2

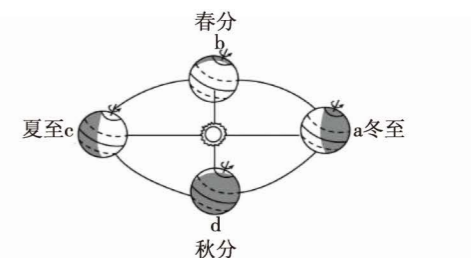


图 3

- 下列四省中初雷出现最早的是

A. 新 B. 皖 C. 鄂 D. 滇
- 图 2 中我国初雷日期的空间分布规律大致为

A. 自南向北逐渐推迟 B. 自北向南逐渐推迟

C. 自东向西逐渐提前 D. 自西向东逐渐提前
- 遇雷雨天时,可以

A. 选择在大树下避雨 B. 在户外打电话约车

C. 避免外出关闭门窗 D. 使用太阳能热水器洗澡
- 诗人韦应物在《观田家》中写道:“微雨众卉新,一雷惊蛰始。田家几日闲,耕种从此起。”此景最可能出现在

A. 华北平原 B. 长江下游平原

C. 四川盆地 D. 内蒙古高原

10. 惊蛰前后,地球公转于

- A. a-b 之间
- B. b-c 之间
- C. c-d 之间
- D. d-a 之间

11. 惊蛰至春分期间,北京

- A. 昼短于夜;昼渐短,夜渐长
- B. 昼长于夜;昼渐短,夜渐长
- C. 昼长于夜;昼渐长,夜渐短
- D. 昼短于夜;昼渐长,夜渐短

图 4 为中国城市灯光图。据图,完成 12~14 题。




图 4

12. 明显呈条带状分布的城市带为

- A. 东南沿海城市带
- B. 台湾东部城市带
- C. 黄河沿岸城市带
- D. 长江沿线城市带

13. 下列明暗对比最强烈的一组是

- A. 京津冀地区和新疆维吾尔自治区
- B. 东北三省和云贵川地区
- C. 珠江三角洲和藏南地区
- D. 沪宁杭地区和辽中南地区

14. 灯光图某种程度上反映我国

- A. 能源资源的空间分布
- B. 人口密度的空间分布
- C. 水能资源的空间分布
- D. 优质耕地的空间分布

2018 年中国召开首届进口博览会,吸引了 130 多个国家和地区的 3000 多家企业参展。

图 5 为进博会 12 个主宾国示意图。据图,回答 15~18 题。

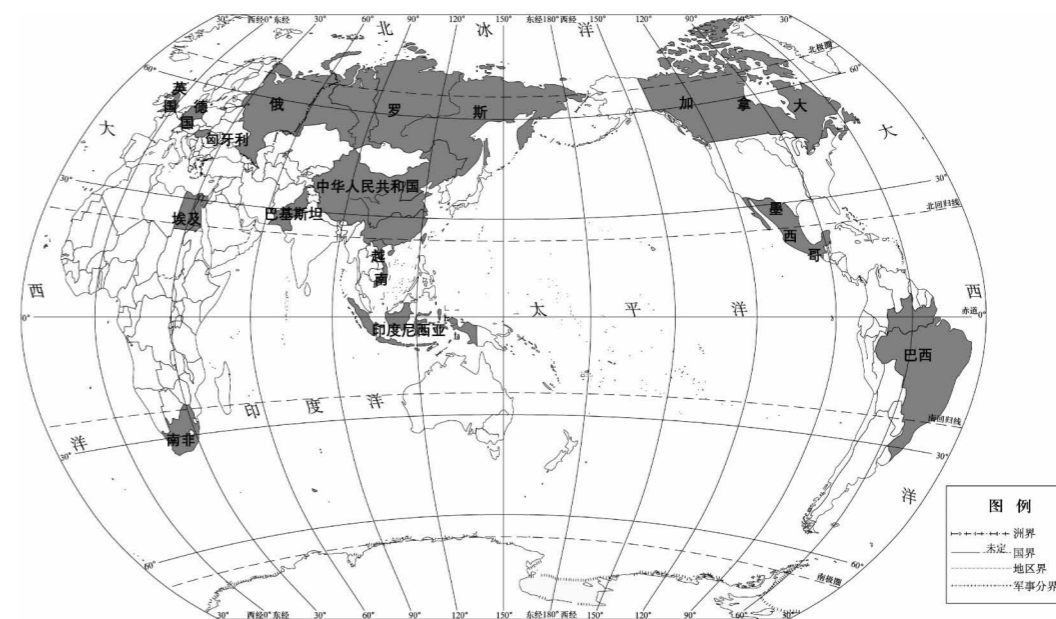


图 5

15. 12 个主宾国

- A. 有 3 个国家濒临北冰洋
- B. 多数国家位于东半球
- C. 多数国家位于热带地区
- D. 地跨世界七个大洲

16. 位于欧洲西部的国家是

- A. 英国、埃及
- B. 德国、俄罗斯
- C. 英国、德国
- D. 埃及、俄罗斯

17. 进博会召开意义是

- ① 满足国内消费多元化的需求
- ② 鼓励大家高消费
- ③ 避免国内外同类企业间的竞争
- ④ 进一步开放中国市场
- ⑤ 增加我国外汇收入
- ⑥ 促进国际经贸往来

- A. ①③⑤
- B. ②④⑥
- C. ②③⑤
- D. ①④⑥

18. 进博会期间,我国与巴基斯坦、越南、巴西等国之间的贸易合作属于

- A. 南南合作
- B. 南北合作
- C. 南南对话
- D. 南北对话

图6为2019年4月7日我国极地实时气象监测数据(北京时间)。据图,完成19~22题。

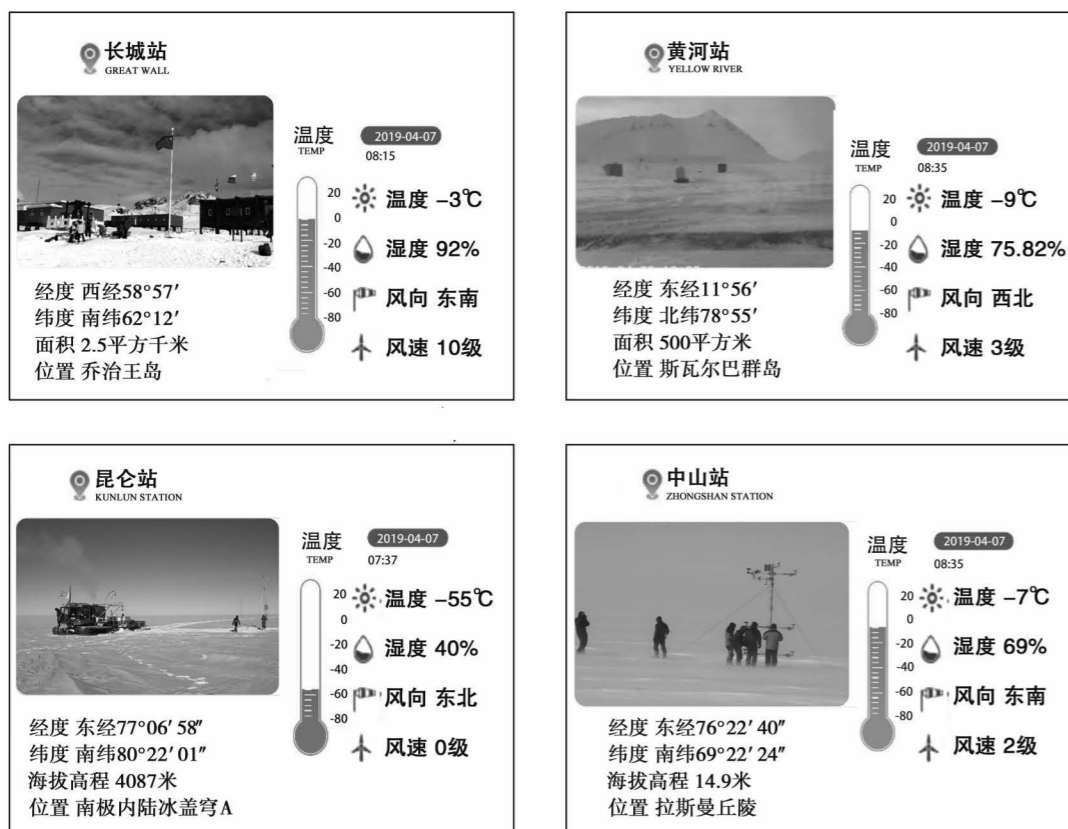


图6

19. 位于北极地区的考察站是
A. 黄河站 B. 昆仑站 C. 中山站 D. 长城站
20. 四个极地考察站中,纬度由低到高排列正确的是
A. 长城站、中山站、昆仑站、黄河站 B. 昆仑站、黄河站、中山站、长城站
C. 长城站、中山站、黄河站、昆仑站 D. 昆仑站、长城站、黄河站、中山站
21. 昆仑站实时温度远低于其他站点,影响因素有
①风向 ②风速 ③海陆位置
④海拔高程 ⑤纬度位置 ⑥经度位置
A. ①②③ B. ③④⑤
C. ④⑤⑥ D. ①②⑥
22. 此时
A. 长城站昼长夜短 B. 中山站昼渐长,夜渐短
C. 昆仑站附近冰盖厚度减小 D. 黄河站逐渐进入科考繁忙期

据“每日优鲜”发布的《2019年生鲜年货消费报告》显示,智利车厘子在“年货新星”榜上居首位。图7为南美洲部分国家示意图。据图,完成23~25题。

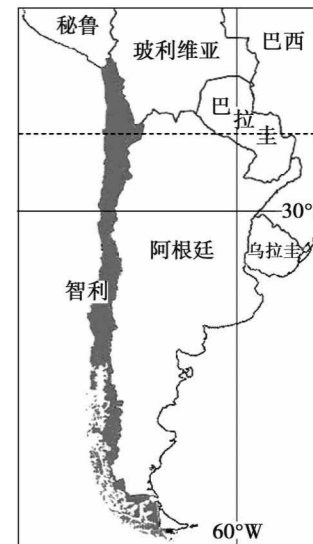


图7

23. 智利
A. 主要位于热带 B. 东临太平洋
C. 经度跨度大 D. 国土南北狭长
24. 为保持新鲜,车厘子运往中国可选择
①航空运输 ②铁路运输 ③内河运输 ④公路运输
⑤具冷藏保鲜技术的海上运输船
A. ①⑤ B. ②③
C. ③④ D. ②⑤
25. 2019年春节期间,智利车厘子走红中国市场的自然原因是
A. 冷藏保鲜技术,保持果味鲜美
B. 位于南半球,反季节供给
C. 与中国建立良好贸易伙伴关系
D. 智利国内消费需求小

图8为尼泊尔地图。据图,完成26~28题。

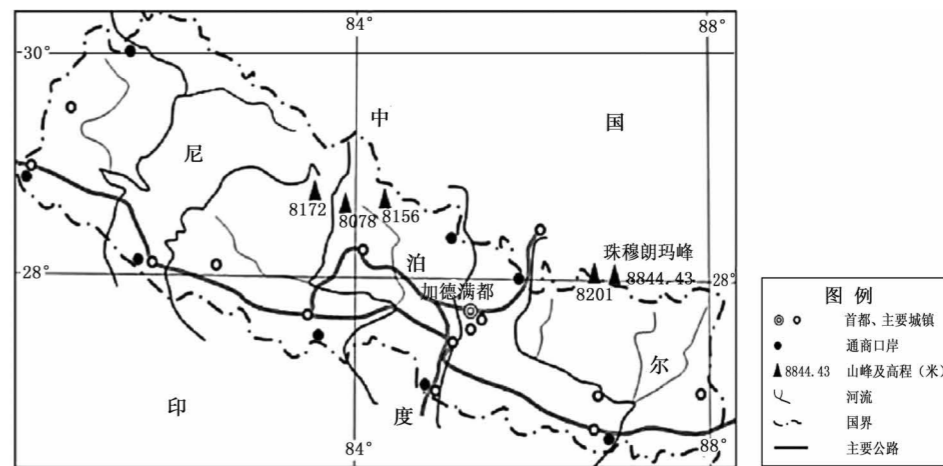


图8

26. 尼泊尔
①属于内陆国家 ②属东亚地区
③首都加德满都靠近河流源头 ④国土狭长,扁平如蚕
⑤仅与中国与印度接壤 ⑥主要位于低纬度地区
A. ①③⑤ B. ①④⑥
C. ②③⑤ D. ②④⑥

27. 下列叙述与尼泊尔地形密切相关的是

- A. 河流航运价值大
- B. 通商口岸均分布于北部边境
- C. 城镇多沿河、沿公路分布
- D. 河流流向多自西向东流动

28. 尼泊尔有“山地王国”之称,主要是因为

- A. 境内有多座 8000 米以上山峰
- B. 珠穆朗玛峰北坡位于其境内
- C. 位于板块内部
- D. 境内地形起伏和缓

图 9 为“某岛等高线地形图”。读图,完成 29~34 题。

29. 零度经线是

- A. 南北纬度的界线
- B. 南北半球的界线
- C. 东西经度的界线
- D. 东西半球的界线

30. 该岛

- A. 东南部以山地为主
- B. 地形单一,地势起伏小
- C. 北部海拔在 200~500 米之间
- D. 地势西北部高,东南部低

电影《哈利·波特与死亡圣器》中,哈利一家都曾经居住在“戈德里克山谷”,山谷的取景地位于伦敦东北的拉文纳姆小镇。15 到 16 世纪,这里因充裕的高质量羊毛和由此生产的蓝绒面呢料而颇有声誉,成为英格兰最富裕的居住地之一。如今当年的羊毛商铺,大多已经被咖啡厅、旅馆、博物馆代替。当地建于十五世纪的教堂和 320 座中世纪木质结构建筑被完好的保留,成为小镇人们的骄傲,因为它们见证了小镇 750 年以来的繁盛不衰。

31. 15 到 16 世纪,拉文纳姆镇羊毛加工业发达的自然原因有

- ①地处平原,地势平坦
 - ②终年温和湿润,利于多汁牧草生长
 - ③靠近剑桥、伦敦,市场需求大
 - ④靠近羊毛产地,原料充足
 - ⑤沿海,交通便利
- A. ①② B. ③④ C. ④⑤ D. ②③

32. 拉文纳姆镇现在是英国最富裕的地区之一,主要依靠

- A. 养羊业
- B. 羊毛加工业
- C. 旅游业
- D. 高新技术产业

33. 暑期在该岛自驾游,需要参考该岛

- A. 气候类型分布图
- B. 交通图
- C. 城市分布图
- D. 人口密度图

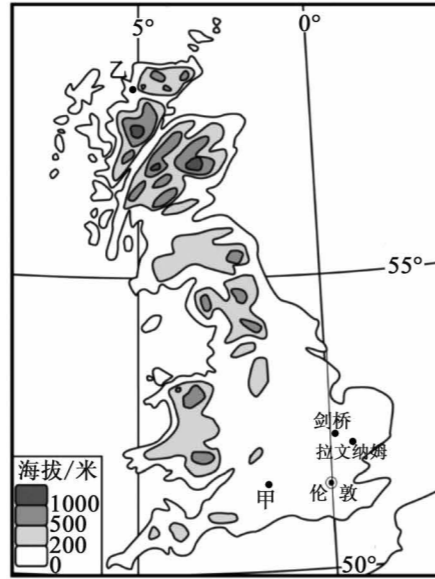


图 9

34. 从甲地出发,计划游览剑桥、伦敦、拉文纳姆三地,再返回,路程较短的自驾线路是

- A. 甲地 → 向东 → 伦敦 → 向北 → 剑桥 → 向东南 → 拉文纳姆 → 向西北 → 甲地
- B. 甲地 → 向东北 → 拉文纳姆 → 向西南 → 伦敦 → 向东北 → 剑桥 → 向西南 → 甲地
- C. 甲地 → 向东 → 伦敦 → 向东北 → 拉文纳姆 → 向东北 → 剑桥 → 向西南 → 甲地
- D. 甲地 → 向东北 → 剑桥 → 向东南 → 拉文纳姆 → 向西南 → 伦敦 → 向西 → 甲地

台湾是中国领土不可分割的一部分。图 10 为台湾岛主要少数民族分布示意图。图 11 为达悟族生活的主屋侧剖面图。据图,完成 35~38 题。

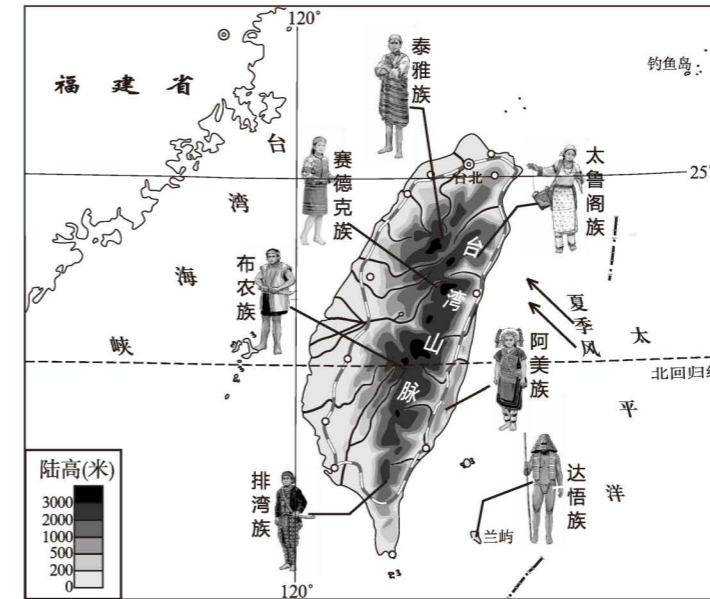


图 10



图 11

35. 台湾岛

- A. 全部位于亚热带
- B. 位于钓鱼岛的东北方向
- C. 气候湿热,物产丰富
- D. 河流短小,水能资源匮乏

36. 关于台湾自然地理要素相互作用表述正确的是

- A. 受地势影响,河流流速慢
- B. 受地形影响,西部降水丰富
- C. 受河流影响,落叶阔叶林为主
- D. 受纬度影响,河流无结冰期

37. 图 10 中原住居民多生活在

- A. 1000 米以上的山地
- B. 500 米以下的丘陵
- C. 200 米以下的平原
- D. 300 米左右的盆地

38. 达悟族传统民居,主屋深埋地下且有精巧的排水系统是由于

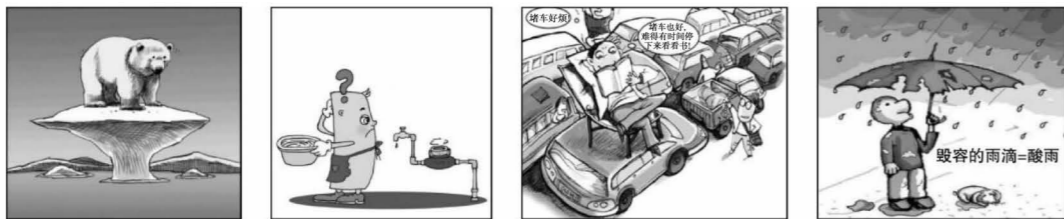
- A. 海岛面积狭小
- B. 台风多发
- C. 海啸多发
- D. 动物侵袭

图 12 为 2018 年格陵兰岛 4—10 月冰川融化程度示意图。据图,完成 39、40 题。



图 12

39. 与往年相比,2018 年冰川融化特点为
 A. 融冰时段缩短 B. 各月融冰程度均超过平均值
 C. 融冰量减少 D. 5—6 月份融化程度增加
40. 格陵兰岛冰川的变化趋势,反映的环境问题是



A B C D

二、非选择题(本题共 4 道题,共 50 分)

41. 薰衣草是世人最喜欢的香草植物之一。图 13 为世界著名薰衣草产区示意图。图 14 为伊犁河谷示意图。读图,回答下列问题。(17 分)

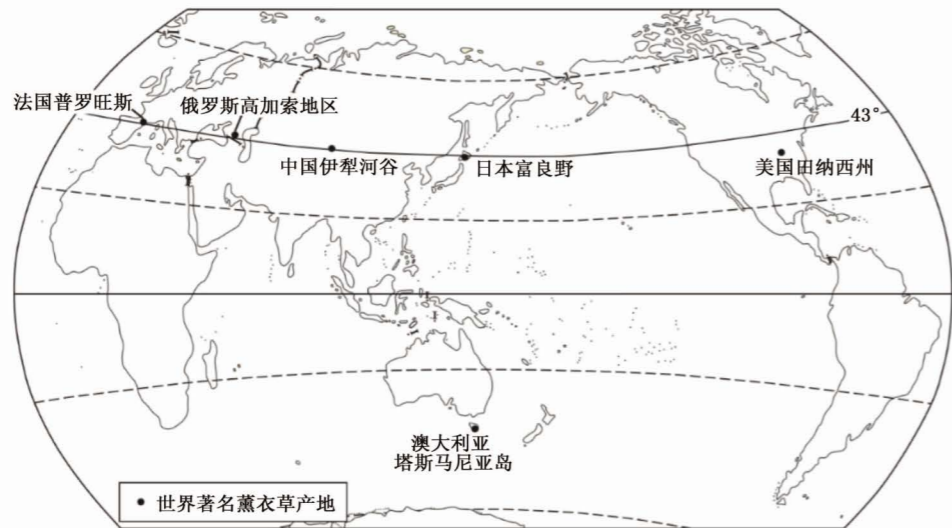


图 13

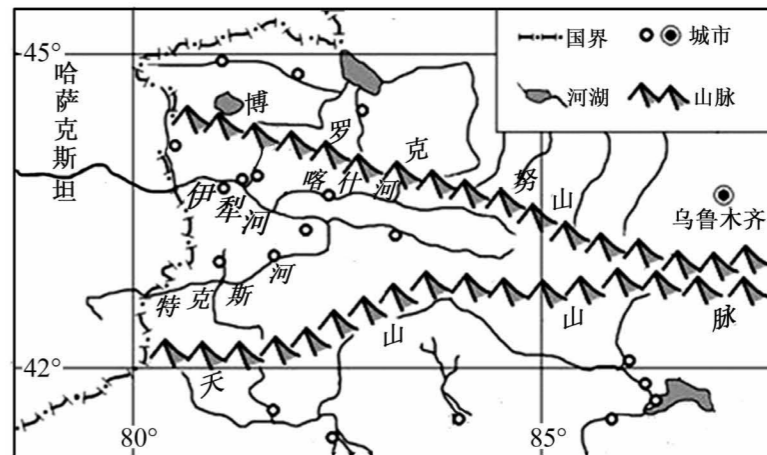
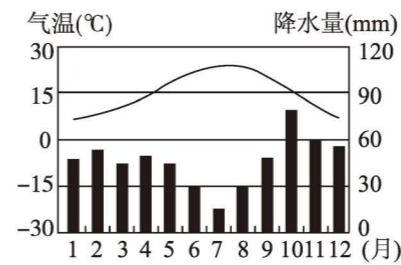
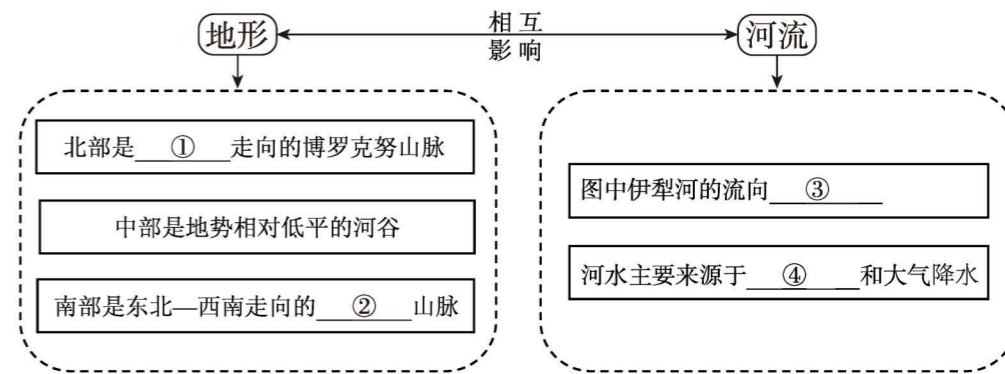


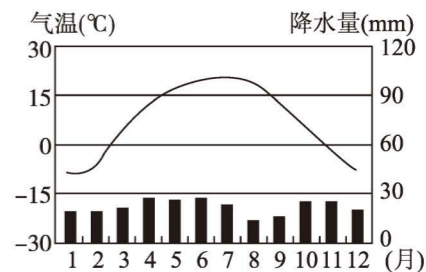
图 14

(1) 图 13 中薰衣草产区的分布特点 _____。(1 分)

(2) 读图 14, 填写图示地区地形与河流特征框图。(4 分)



普罗旺斯



伊犁河谷

图 15

(3) 比较伊犁河谷与普罗旺斯的气候特征。(4 分)

	相同点	不同点
气温	① _____	② _____ ③ _____
降水		④ _____

薰衣草原产于地中海地区,为摆脱进口依赖,1964年在新疆开始试种,1978年在伊犁河谷进入大面积种植阶段,1980—1982年薰衣草引种栽培成为国家重大科研课题。经过不懈的努力,伊犁河谷成为“中国薰衣草之乡”。

- (4)该地区种植薰衣草的有利条件_____。(2分)
- A. 夏季高温多雨,光照强 B. 昼夜温差小,热量充足
C. 靠近河流,有灌溉水源 D. 河谷地区,土壤较肥沃
- (5)在社会、经济方面,伊犁河谷引种薰衣草的成功经验有_____。(2分)
- A. 国家政策的长期支持 B. 坚持不懈的科技自主研发
C. 引进国外先进的机械设备 D. 大力发展交通基础设施
E. 推广文化旅游经济产业

表2 2012~2015年中国薰衣草进出口贸易概况

年份	进口量(10 ⁴ kg)	出口量(10 ⁴ kg)
2012	114.8	1251.9
2013	112.7	1476.7
2014	105.8	2301.1
2015	102.1	3438.3

- (6)据表2可知,中国薰衣草进、出口特点是_____。(2分)
- (7)说出依托薰衣草可以发展的产业有_____。从可持续发展角度,为当地薰衣草产业发展提出一条合理化建议_____。(2分)

42. 图16为世界某区域图。读图,回答下列问题。(10分)

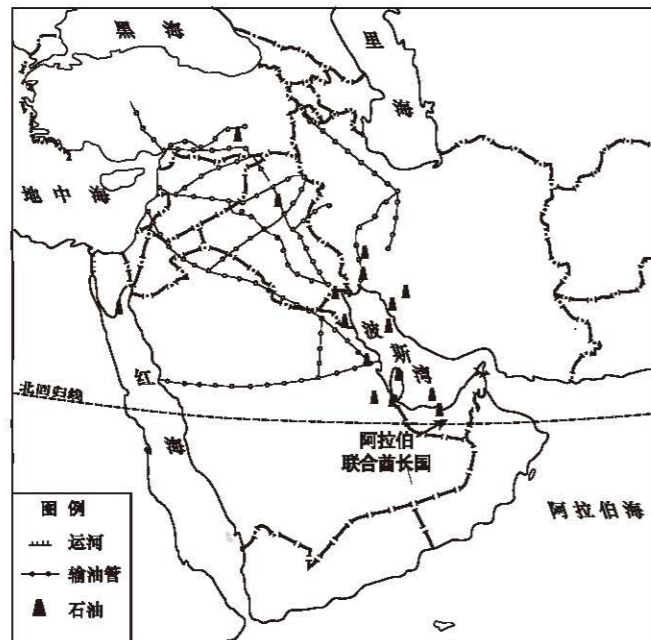


图16

北京时间2019年1月6日0:00,央视直播阿联酋亚洲杯足球赛开幕式。

- (1)阿联酋属于_____。(1分)
- A. 南亚 B. 西亚 C. 东亚 D. 北亚
- (2)中国球迷熬夜观球的原因是_____。(1分)
- A. 地球自转,两地纬度不同 B. 地球公转,两地经度不同
C. 地球自转,两地经度不同 D. 地球公转,两地纬度不同
- (3)足球赛在当地1月举行的主要原因是_____。(1分)
- (4)图中运河是_____ (选择填空),其地理意义_____、_____ (3分)。
- A. 巴拿马运河 B. 苏伊士运河
C. 京杭大运河 D. 曼彻斯特运河
- (5)图中_____资源对世界经济发展影响大,其主要分布在_____。(2分)
- (6)该资源陆上运输的主要方式_____。此运输方式的特点_____。(2分)
43. 2019年《长江之恋》在沿江各省播出,引起广泛关注。读图17,回答下列问题。(10分)

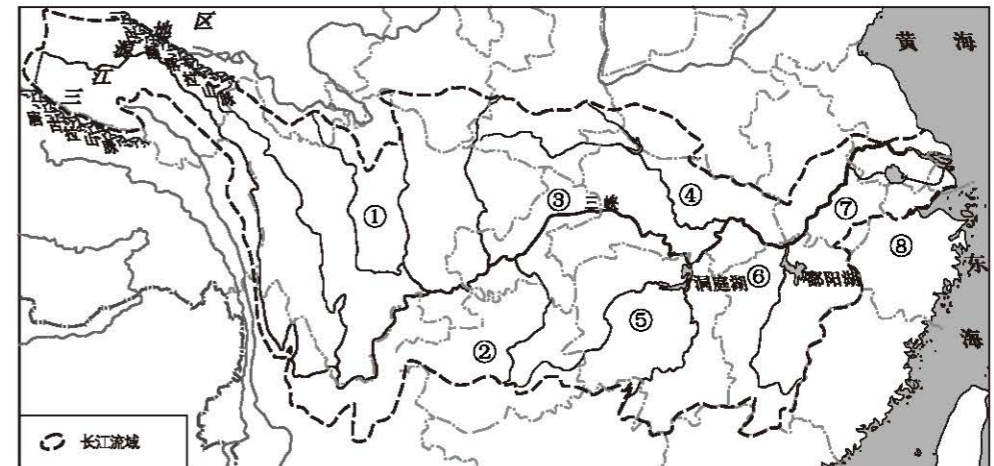


图17

- (1)下列节目与图中信息一一对应的是_____。(1分)
- A. 实景演出《归来三峡》——①——川 B. 彝族歌舞《生在火塘边》——②——藏
C. 《最忆是杭州》——⑧——浙 D. 《八百里洞庭美如画》——④——湘
- (2)节目现场,各省主持人送上了家乡美食,组成了一桌桌温馨的团圆饭。完成下列连线,并任选其一解释美食与自然环境的关系。(5分)
- 手抓羊肉 云南
过桥米线 青海
莲藕排骨 重庆
麻辣火锅 湖北

(3)青海省主持人介绍了三江源地区。依据所学挑出下文中的错误表述,抄写在横线上。(3分)

三江源地区位于我国青海省南部,地处我国地势的第三级阶梯。它是长江、黄河、澜沧江的发源地,素有“中华水塔”之称。这里处于青藏高原腹地,属于温带大陆性气候。这里日照强烈,昼夜温差小,空气稀薄。境内巴颜喀拉山脉、唐古拉山脉横贯其间,雪山冰川广布。区域内湖泊、沼泽众多,被誉为“地球之肺”。三江源地区是世界上高海拔生物最集中的地区之一。

错误1 _____ 错误2 _____ 错误3 _____

(4)推动长江经济带发展是关系国家发展全局的重大战略。这三年,从雪山脚下到东海之滨,生态优先,绿色发展,“共抓大保护,不搞大开发”的理念已成为所有长江儿女的共识。以下做法符合这种理念的是_____。(1分)

- ①建立长江沿线生态环境评测机制 ②加强工农业水污染治理
 ③实施退耕还湖还湿,全年禁止打渔 ④重点开发布局高新技术产业
 ⑤建立沿江湿地生态保护区 ⑥上游修建大坝,大力开发长江的水能资源
- A. ①②③④ B. ①②③⑥ C. ①②④⑤ D. ②④⑤⑥

44. 2019年1月,北京某中学学生前往山东开展研学活动(见图18)。读图文资料,回答下列问题。(13分)

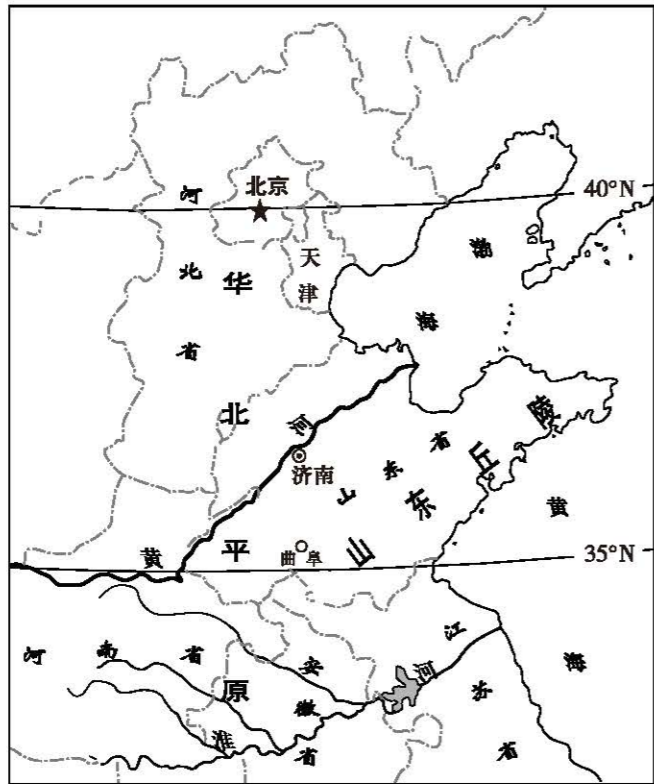


图18

资料:对于一个在北平住惯的人,像我,冬天要是不刮风,便觉得是奇迹;济南的冬天是没有风声的。对于一个刚由伦敦回来的人,像我,冬天要能看得见日光,便觉得是怪事;济南的冬天是响晴的。自然,在热带的地方,日光永远是那么毒,响亮的天气,反有点叫人害怕。

可是,在北中国的冬天,而能有温晴的天气,济南真得算个宝地。

——节选自老舍《济南的冬天》

(1)研学目的地山东省临_____和黄海,省内主要地形区有_____和_____。(3分)

高铁一到济南站,师生便感受到这里冬天的独特。

(2)运用地理知识,说明老舍先生认为“济南真得算个宝地”的理由。(3分)

(3)《济南的冬天》一文中“北中国”主要指我国地理分区中的_____地区,其南界是_____。该界线穿过陕西省和河南省南部、_____省和_____省的北部。(4分)

(4)结合图19,解释老舍先生认为伦敦“冬天要能看得见日光,便觉得是怪事”的原因。(1分)

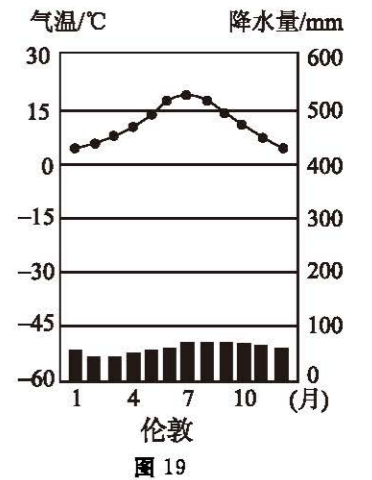


图19

(5)下面是某学生设计的研学报告,请补充完整。(2分)

主题	访曲阜“三孔”,悟儒家文化
地点	曲阜孔庙、孔林、孔府
遗产认定时间	1994.12
遗产类型	世界①(自然/文化)遗产
世界遗产委员会评价	孔子是公元前6世纪到公元前5世纪中国春秋时期伟大的哲学家、政治家和教育家。孔夫子的庙宇、墓地和府邸位于山东省的曲阜。孔庙是公元前478年为纪念孔夫子而兴建的,千百年来屡毁屡建,到今天已经发展成超过100座殿堂的建筑群。孔林里不仅容纳了孔夫子的坟墓,而且他的后裔中,有超过10万人也葬在这里。当初小小的孔宅如今已经扩建成一个庞大显赫的府邸,整个宅院包括了152座殿堂。曲阜的古建筑群之所以具有独特的艺术和历史特色,应归功于2000多年来中国历代帝王对孔夫子的大力推崇。
遗产保护意义	②