

2018 北京市西城区初二（下）期末

地 理

2018.7

试卷满分：100分 考试时间：60分钟

一、你能选对吗？（50分）

下列各小题均有四个选项，其中只有一项符合题意要求；每小题2分；请你将答案填写在下面的答题框中（使用机读卡的学校请填写在机读卡上）

读图1，完成1~3题。

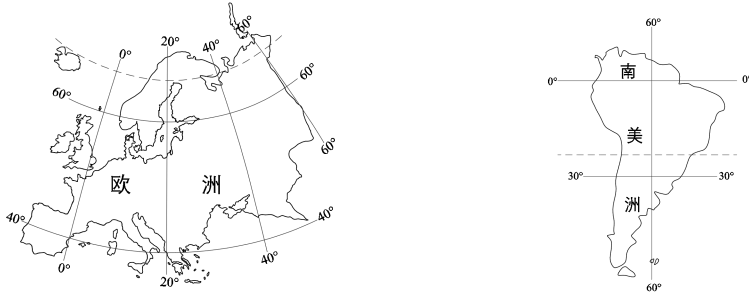


图1

- 图1中两个大洲
 - 均位于北半球
 - 均处于西半球
 - 主体处于低纬度
 - 都与大西洋相临
- 根据两个大洲的位置可知
 - 欧洲北部在冬半年会出现极昼现象
 - 欧洲气候以热带雨林和草原气候为主
 - 南美洲气温总体自北向南逐渐降低
 - 南美洲海湾深入内陆，气候海洋性明显
- 如果想直观了解两个大洲的地形特点，需要借助
 - 等高线地形图
 - 地形剖面图
 - 气候类型图
 - 河流水系图
 - ①②
 - ③④
 - ①③
 - ②④

湄公河是东南亚最长的河流。读图2“湄公河不同河段风光”，完成4~6题。



甲

图2

乙

- 据图可知，
 - 甲河段流经山区，位于河流的下游
 - 乙河段地形平坦，河道弯曲，流速快
 - 乙河段河流流量大于甲河段
 - 河流各段沿线人口分布都比较密集
- 中南半岛许多城市都分布在湄公河沿岸，河流为城市的发展提供了
 - 丰富的水能
 - 充足的水源
 - 便利的水运
 - 肥沃的土壤
 - ①②
 - ②③
 - ③④
 - ①④
- 湄公河乙河段易发生的自然灾害是
 - 滑坡
 - 泥石流
 - 寒潮
 - 洪涝

读图3“2016年最受欢迎的目的地国家客流量统计”，回答7、8题。

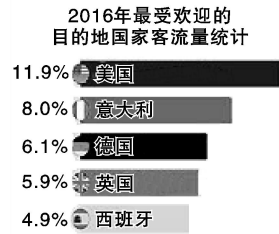



图3

7. 最受欢迎的目的地国家集中在
- A. 亚洲
 - B. 欧洲
 - C. 美洲
 - D. 大洋洲

8. 下列旅游资源位于美国的是



沙特阿拉伯王国（简称沙特）属热带沙漠气候，2016年8月“雪城”在首都利雅得开业，它是耗资约1亿里亚尔（相当于1.7亿人民币），占地超过5000平方米的室内滑雪场，场馆室温为零下3摄氏度，设有多条游乐雪道，难得的是这里允许本地女性进入但必须头戴面纱。目前这里已经吸引了众多世界游客。读图4，完成9~13题。

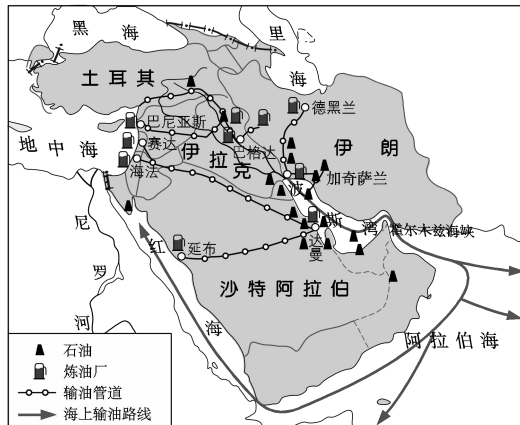


图4

9. 沙特的气候特征是
- A. 终年高温多雨
 - B. 终年炎热干燥
 - C. 终年温和湿润
 - D. 终年低温少雨
10. 沙特临近波斯湾，有着丰富的
- A. 石油资源
 - B. 水资源
 - C. 煤炭资源
 - D. 生物资源
11. 沙特石油输出的主要方式是
- ①铁路运输
 - ②公路运输
 - ③海洋运输
 - ④内河运输
 - ⑤管道运输
- A. ①②
 - B. ②④
 - C. ①⑤
 - D. ③⑤
12. 沙特建设室内滑雪场等一系列旅游设施的主要目的是
- A. 充分利用自然条件
 - B. 满足国内居民对滑雪的需求
 - C. 完善城市基础服务
 - D. 发展旅游业，增加经济收入
13. 沙特对穆斯林妇女有严格的着装规定，因为这里信奉
- A. 基督教
 - B. 佛教
 - C. 伊斯兰教
 - D. 道教
- 以自然为中心的观念深深扎根于日本人心中，人们与自然无限亲近，又心怀敬畏。顺应自然、融入自然是日本人自然观的核心。读图5，回答14~16题。
14. 生食海鲜拉近了人与自然的距离，是日餐的突出特色。从自然环境分析，是因为日本
- A. 四面环海，海产品新鲜
 - B. 地形以山地为主
 - C. 属于雨热同期的季风气候
 - D. 河流短小、湍急

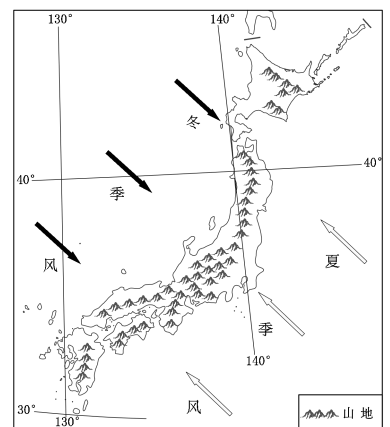


图5

15. 日本人自然观中的“敬畏”，主要来自
- A. 多火山地震 B. 气候变化多端
C. 矿产资源贫乏 D. 农业靠天吃饭
16. 能体现出日本人自然观的做法是
- A. 节日穿着和服 B. 建造摩天大楼
C. 严格保护森林 D. 大量捕杀鲸鱼

俄罗斯能源矿产出口占出口总量的比重超过50%。总统普京要求政府大力促进农业发展，他说：“考虑到我们的土地、水资源，我们要不仅能够养活自己，而且要成为世界最大的有机食品的供应商。”2017年俄罗斯向中国供应的冰淇淋超过300吨。读图6“俄罗斯农业和矿产分布”，回答17~20题。

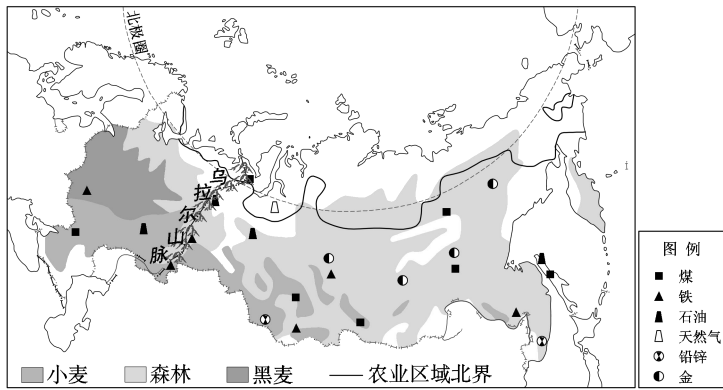


图6

17. 据图可知，俄罗斯出口的能源矿产有
- ①煤炭 ②铁矿 ③石油 ④天然气 ⑤铅锌矿 ⑥金矿
- A. ①②③ B. ①③④ C. ④⑤⑥ D. ②⑤⑥
18. 俄罗斯发展农业的有利条件是
- A. 纬度低，热量条件好 B. 土地辽阔，耕地面积大
C. 人口多，劳动力充足 D. 技术先进，农药使用多
19. 对俄罗斯政府大力发展农业的目标，表述错误的是
- A. 改变对能源矿产出口的严重依赖
B. 降低整个国家对食品进口的依赖
C. 调整经济结构，实现各产业均衡发展
D. 大规模开发北部领土，实现经济腾飞

20. 俄罗斯冰淇淋（图7）由纯鲜奶制作，运送全程需要保持在零下40度。我们在北京就可以吃到的原因主要是
- A. 两地之间距离较近
B. 飞机可以直接到达
C. 运输成本相对较低
D. 冷藏技术水平提高



图7

读图8“澳大利亚大分水岭两侧气候差异，回答21、22题。

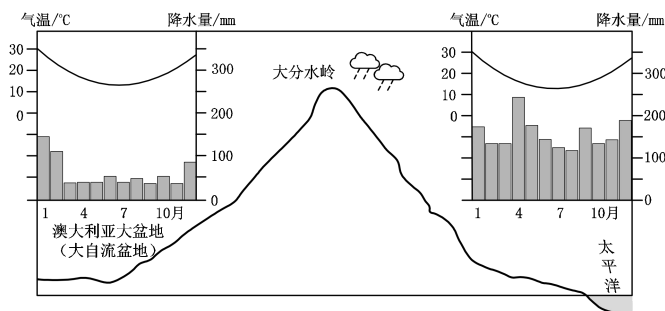


图8

21. 大分水岭降水丰富的是
- A. 北坡 B. 南坡 C. 东坡 D. 西坡
22. 据图推测，澳大利亚

- A. 地形以山地为主，属于温带海洋气候
- B. 人口、城市主要集中在沿海地区
- C. 以养羊为主的畜牧业集中在沿海平原
- D. 盆地地下水丰富，可大面积种植水稻

读图9“热带雨林中的水循环”，回答23~25题。

23. 图中所示森林分布在

- A. 日本
- B. 俄罗斯
- C. 美国
- D. 巴西

24. 热带雨林对当地的影响主要是

- A. 当地50%的大气水来自于雨林
- B. 形成降水的水汽全部来自于海水的蒸发
- C. 雨林是个巨大的储水库，保存全部降水
- D. 大量水汽被带离雨林地区，当地降水稀少

25. 为实现对热带雨林的持续保护，应该

- A. 全面禁止对森林的砍伐
- B. 禁止木材的流通和买卖
- C. 建立保护区，逐步退耕还林
- D. 修建道路和宾馆，吸引游客

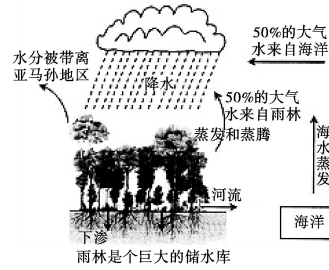


图9

二、你能答对吗？（50分）

26. 亚洲占世界陆地面积的30%，占世界目前人口的60%。读图10“亚洲人口分布及三个城市气候资料图”，回答下列问题。（20分）

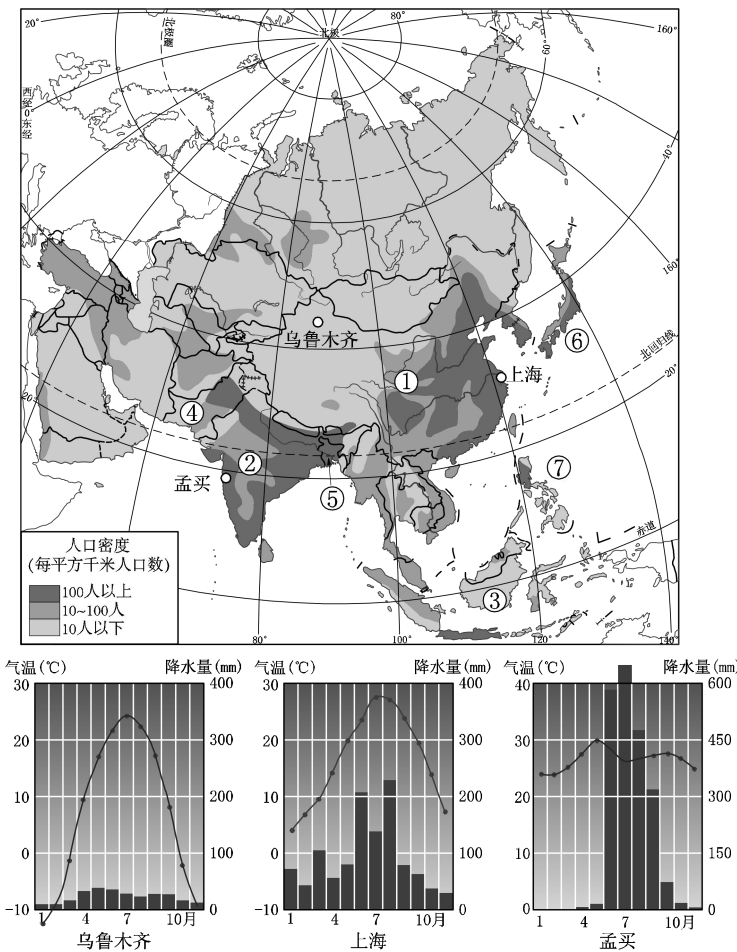


图10

- (1) 亚洲人口数量_____（多/少），截止2017年共有7个国家人口总数超过1亿，分别是①中国、②印度、③印度尼西亚、④巴基斯坦、⑤孟加拉国、⑥日本、⑦菲律宾，你认为其中人口密度最大的是中国吗？_____（是/否），请说明理由_____。
- (2) 亚洲人口总体分布特点是_____（均匀/不均匀），中部人口_____，从地形角度分析，这里地

势_____，你的判断依据是_____；从气候角度分析，这里降水_____，这可以从位置找到原因。

(3) 读图可知，亚洲的人口稠密区主要是_____半岛、中国东部、日本沿海等地，这里多位于河流的_____，为农业生产提供了_____、_____等自然条件，悠久的开发历史、临海便利的条件，使这里成为经济较为发达的地区。亚洲北部河流中下游地区人口_____，原因是_____。

(4) 通过人口分布原因的探究我们发现_____、_____、_____等地理信息是了解区域的基础，关注要素间的联系可以帮助我们更好认识区域中的地理现象。

27. 北京时间 2017 年 12 月 16 日晚，一架中国飞机在南非开普敦补给后，经过 5.5 小时飞行，搭乘 22 名乘客平安着陆在南极的冰雪跑道上，开创了由中国航空飞机运载乘客平安飞抵南极的新历史。读图 11 “南极洲”及资料，回答下列问题。(15 分)

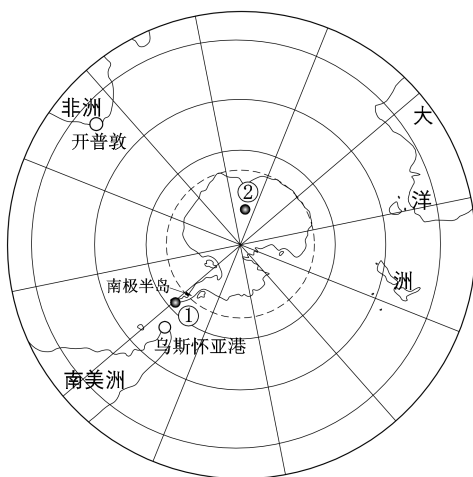


图 11

资料 1 位于“地球尽头”的南极洲已经成为不少中国游客的旅游目的地，目前南极洲中国游客的数量已经仅次于美国成为第二大国，占游客总数的 12%，2017 年就有 5145 名中国游客登陆南极大陆。

资料 2 中国游客去南极旅游不需要签证，大部分人是从阿根廷的乌斯怀亚港出发，乘坐游轮前往南极半岛及周边游览，需要 10-20 天时间。

(1) 你认为南极洲被称为“地球尽头”的原因是_____，到南极地区旅游可能看到的景观有(多项选择)。

- A. “太阳不落”的极昼
- B. 冰雪覆盖的大地
- C. 奔腾不息的河流
- D. 憨态可鞠的企鹅
- E. 物种丰富的丛林
- F. 漂浮在海面的冰山

(2) 南极旅游比较理想的时间是_____ (单项选择)。

- A. 3 月-6 月
- B. 6 月-9 月
- C. 9 月-12 月
- D. 12 月-次年 3 月

上述时间段，南极长城站月平均气温大多在 0℃ 以上，每年至少要接待数千名中外游客，而建在南极大陆最高点的昆仑站此时气温却低于 -40℃，你认为图中_____ (填序号) 是长城站，理由是_____。

(3) 阿根廷的乌斯怀亚港成为南极游出发地的原因是_____，从这里一直向_____ (方向) 就可以到达南极半岛。与飞机相比，乘游轮前往南极的优势是_____ (多项选择)。

- A. 节省时间
- B. 欣赏沿途风景
- C. 费用较低
- D. 搭载游客数量多

(4) 未来随着航线的开通，将有更多游客到达南极洲。请列举旅游开发可能会给南极洲环境带来的影响。(至少两项)

28. 某校寒假组织学生到美国游学，访问了主要城市（见图 12），体验到美国自然环境差异和经济发展水平。读图 12 “美国” 及资料，回答下列问题。（15 分）

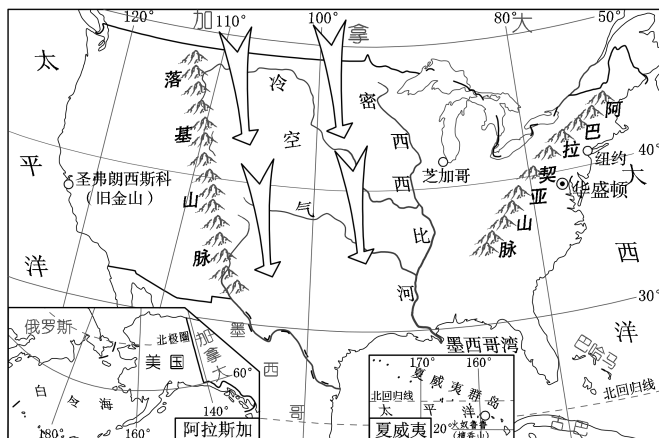



图 12

(1) 同学们所到城市中，_____是美国的首都，_____、_____是重要的海港，跨越_____洋可到达欧洲，跨越_____洋可到达东亚。

(2) 行程中，同学们既看到了漫天飞雪，也体会了炎炎烈日，感受到美国自然环境明显的地域差异。请将下列照片与城市名称进行连线。



芝加哥



火奴鲁鲁



旧金山

同学们在雪中拍照留影的同时，利用地理知识分析了该城市降温、降雪的原因，美国地势_____高_____低，冬季来自_____（方向）的冷空气可长驱直下，易形成_____（灾害性天气）。

(3) 在旧金山附近的“硅谷”，同学们可以看到许多知名的公司，如英特尔、惠普、苹果等，因为这里是_____产业的聚集地，该产业对美国经济增长起着重要作用。

(4) 在旅行途中同学们发现所到城市，绿化面积大，空气清新。有位同学回国后搜集、整理了相关资料。

资料 20 世纪 50 年代，美国发生多次严重空气污染事件，造成大量人员伤亡，让美国政府意识到空气污染对

人体的伤害很大。为了解决污染问题，1970年联邦政府首次颁布了《清洁空气法》，对每一种空气污染物都规定了最高限度。最明显的变化出现在洛杉矶的公路管理要求上：污染排放较大的汽车被要求过滤汽车尾气，不符合环保要求的汽车被处以很重的罚款。同时，利用技术手段减少企业污染物的排放数量，鼓励清洁能源和可再生能源的开发和利用。

你认为资料中哪些措施是我国空气污染治理中可以借鉴的？（至少两条）

地理试题答案

一、你能选对吗？（每小题 2 分，共 50 分）

题号	1	2	3	4	5	6	7	8	9	10	11	12	13
答案	D	C	A	C	B	D	B	C	B	A	D	D	C
题号	14	15	16	17	18	19	20	21	22	23	24	25	
答案	A	A	C	B	B	D	D	C	B	D	A	C	

二、你能答对吗？（共 50 分）

26. 本题共 20 分。

- (1) (4 分) 多 否 中国人数量多，但面积广阔
- (2) (6 分) 不均匀 稀疏 较高 河流向四周呈辐射状入海 较少 海陆
- (3) (7 分) 印度 中下游 地形 水源（土壤） 交通 稀疏 纬度高，气温低
- (4) (3 分) 地理位置 地形 气候 河流（任答三点即可）

27. 本题共 15 分。

- (1) (5 分) 位于地球的最南端（合理即可） ABDF
- (2) (3 分) D ① 纬度较低（或沿海海拔较低、游客数量多）
- (3) (5 分) 距离南极大陆最近 南 BCD
- (4) (2 分) 可以从对当地自然环境、动植物的影响以及环境污染等方面列举，合理即可

28. 本题共 15 分。

- (1) (5 分) 华盛顿 纽约 旧金山（檀香山） 大西 太平
- (2) (7 分)



- 东西 中部 北方 寒潮（暴雪）
- (3) (1 分) 信息技术（高新技术）
- (4) (2 分) 与资料相关，合理即可