

北京市西城区 2018 年九年级统一测试

地理试卷

2018.4

考生须知	<ol style="list-style-type: none">1. 本试卷共 12 页,共两部分,44 道小题。满分 90 分。考试时间 90 分钟。2. 在试卷和答题卡上准确填写学校名称、姓名、班级和学号。3. 试题答案一律书写在答题卡上,在试卷上作答无效。4. 在答题卡上,试题用黑色字迹签字笔作答。5. 考试结束,将本试卷和答题卡一并交回。
------	--

第一部分 选择题(共 40 分)

下列各小题均有四个选项,其中只有一项是符合题意要求的。请将所选答案的字母填涂在答题卡的相应位置上。

中国饮食文化有着鲜明的地域特色。图 1 是四个餐饮品牌的商标设计。读图,完成 1~3 题。



图 1

1. 图中餐饮品牌各具特色,其所属省区正确的是
A. ①——甘 B. ②——琼 C. ③——滇 D. ④——贵
2. 形成于四川盆地,体现了人们对夏季湿热环境适应性的美食是
A. ① B. ② C. ③ D. ④
3. 图中④是蒙自云南过桥米线商标。米线又称“米粉”,一百多年前,汉族居民将这种小吃带到哈尼族、彝族聚居的蒙自地区,逐渐加工演化成独特的地方美食。蒙自过桥米线传统技艺 2015 年被列入《国家级非物质文化遗产名录》。这反映出我国
A. 北方地区以稻米为主食的历史源远流长
B. 地方美食也是自然旅游资源的组成部分
C. 少数民族和汉族交错杂居中的文化融合
D. 保护古老技艺以便获取最大的经济效益

图 2 是某校学生在地理实践活动课上,用橡皮泥制作的一组等高线地形模型作品,图 3 是同学们制作时使用的底图之一。读图,完成 4~6 题。

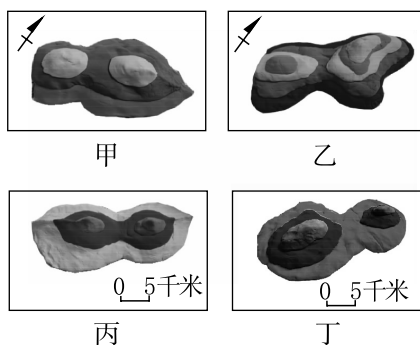


图 2

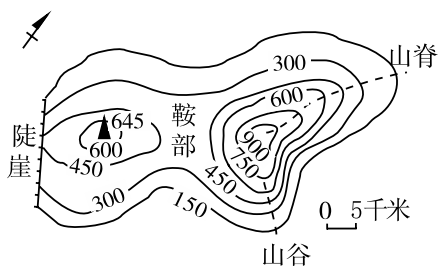


图 3

4. 根据图 3 制作出的等高线地形模型是
 A. 甲 B. 乙 C. 丙 D. 丁
5. 图 3 中地形部位有一处标注存在错误,是
 A. 山脊 B. 鞍部 C. 山谷 D. 陡崖
6. 如果由你来改进这些模型作品,你认为这四个作品应该共同增加的元素是
 A. 经纬网 B. 指向标 C. 水平比例尺 D. 垂直比例尺

北京中山公园内保留着明代所建的社稷坛。最上层铺垫着五种颜色的土壤:东方为青色、南方为红色、西方为白色、北方为黑色、中央为黄色(如图 4)。它大体上符合我国土壤分布概况。据此完成 7~9 题。




图 4





7. 若在图 4 的甲框中添加一个指向标,下列正确的是
 A.  B.  C.  D. 
8. 根据我国的区域地理特征,大致可以判断社稷坛中“五色土”的来源。下列说法错误的是
 A. 黑土——大兴安岭以东的东北地区 B. 黄土——秦岭-淮河以北的华北地区
 C. 红土——横断山脉以西的青藏地区 D. 白土——祁连山以西及以北内陆地区
9. “五色土”中的青色土壤多形成于灌溉条件良好或长期淹水的环境,是由原先的红土发生化学变化后形成的灰蓝色土壤。青色土壤区种植的主要粮食作物是
 A. 小麦 B. 水稻 C. 棉花 D. 甜菜

图 5 为“某区域地形剖面示意图”。读图,完成第 10、11 题。

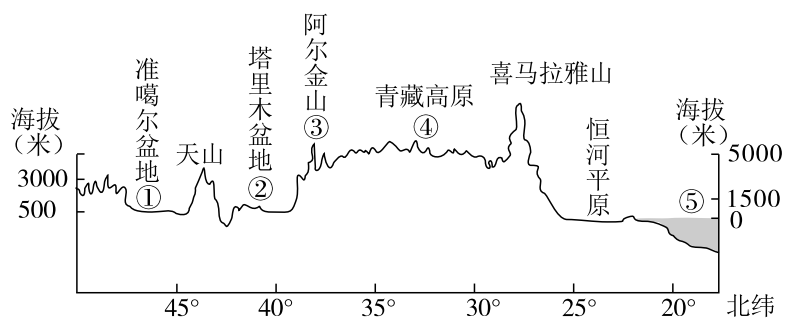


图 5



图 6

10. 图 5 区域中

- A. ①是我国最大的内陆盆地
- B. ②地区有我国最长内流河
- C. ③山脉是地势二、三级阶梯界线
- D. ⑤区域为太平洋边缘海域

11. 海拔越高,气压越低。图 6 所示的食品袋因周围气压变低而膨胀“发胖”,这种现象可能出现的地区是

- A. ①
- B. ②
- C. ④
- D. ⑤

图 7 是我国某省级行政中心城市某年 7 月 29 日的实时天气预报。读图,完成第 12、13 题。

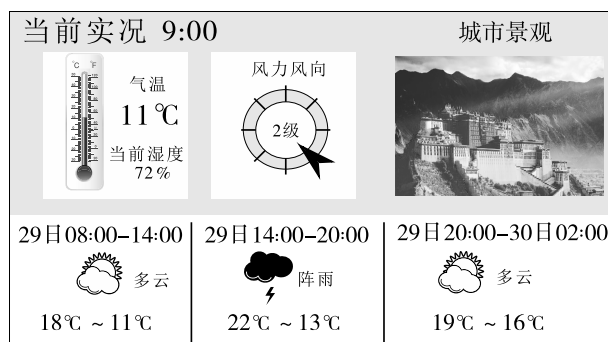


图 7

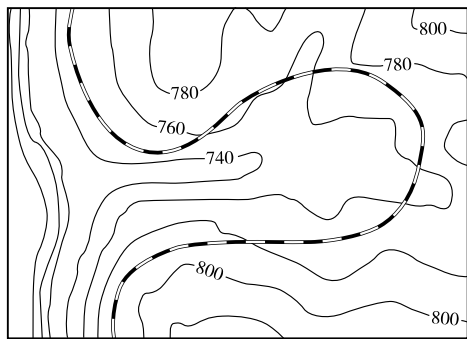
12. 该城市是

- A. 广州
- B. 拉萨
- C. 北京
- D. 乌鲁木齐

13. 该城市居民当天出行,根据天气预报应做出的判断是

- A. 昼夜温差大,应备棉服保暖
- B. 西北风强,应备面纱、口罩
- C. 有阵雨,湿度大,应备雨伞
- D. 白天日照强,适合做日光浴

“蜀道之难,难于上青天”。在新中国西南地区的铁路建设中,很多地段都要采取如图 8 的“灯泡”型迂回线路。随着工程技术的发展,可逢山挖隧,遇水搭桥。2017 年 12 月,西成(西安至成都)高铁正式开通运营。该线路隧道群规模为全国之最,从此西安到成都仅需 4 小时。图 9 为西成高铁路线图。据此完成 14~17 题。



—760— 等高线(m) ——— 铁路

图 8

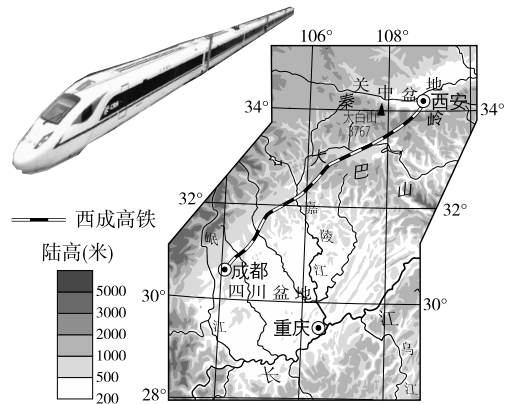


图 9

14. 图 8 中铁路线的最大高差可能为
 A. 20 米 B. 35 米 C. 55 米 D. 80 米
15. 图 8 中的“灯泡”型路线
 A. 垂直于等高线分布 B. 较其他路线坡度缓
 C. 利于缩短运行距离 D. 适合平原交通建设
16. 西成高铁的隧道工程量大,原因是途经
 A. 秦岭、大巴山 B. 黄土高原、关中盆地
 C. 大巴山、成都平原 D. 嘉陵江、岷江
17. 与传统铁路交通方式相比,高铁的优势有
 ①速度快 ②灵活性强 ③节能环保 ④载客量大 ⑤建设成本较低
 A. ①②⑤ B. ①③④ C. ②③④ D. ③④⑤

图 10 中这只熊猫会发电哦!——“熊猫光伏电站”于 2017 年 12 月在山西省大同市并网发电。“熊猫”的黑色部分,由单晶硅太阳能电池组成;白色部分由薄膜太阳能电池组成。这是根据一位中学生的创意而设计的新能源电站,电站内部还设有青少年中心。据此完成 18~20 题。



图 10

18. 太阳能光伏电站
 A. 所用资源不可再生
 B. 属于高新技术产业
 C. 高纬度地区最适用
 D. 全天的发电量一致
19. 根据图文资料,“熊猫光伏电站”所在地位于
 A. 黄土高原 B. 东北平原 C. 山谷低地 D. 山岭陡坡
20. 山西省是我国的“煤炭能源基地”。在这里建设“熊猫光伏电站”的意义是
 ①提高煤炭的利用率 ②改善大气质量 ③减少占用土地
 ④保护生态环境 ⑤加深青少年对新能源的理解和兴趣
 A. ①②③ B. ①②④ C. ③④⑤ D. ②④⑤

图 11 是世界人口的增长及预测图、图 12 是 2018 年 3 月 20 日中国人口时钟图。读图,完成 21~23 题。

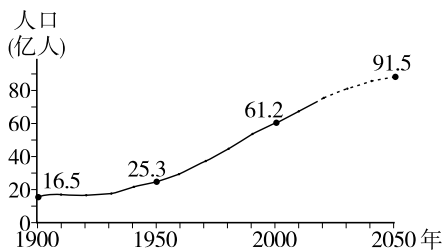


图 11



图 12

- 读图 11,世界的人口增长速度
 - 一直很快
 - 1900 年后逐渐变缓
 - 一直缓慢
 - 1950 年后迅速加快
- 人口增长过快可能带来的问题有
 - 粮食供给压力加大
 - 劳动力可能会短缺
 - 资源得到有效利用
 - 消费水平迅速提高
- 据图 12 分析,我国近年来施行“全面二孩”人口政策,主要原因是
 - 人口基数已变小
 - 人口老龄化问题严重
 - 新生人数已很少
 - 已不需要“计划生育”

2018 年 2 月 9 日至 25 日,第 23 届冬季奥林匹克运动会在韩国平昌举行,下届冬奥会举办城市是中国北京和张家口(图 13)。据此完成 24~26 题。

- 据地理位置推断,平昌可能比北京
 - 冬季更寒冷
 - 全年更湿润
 - 气温年较差更大
 - 降水季节变化更大
- 媒体称:平昌冬奥会开幕式于 2 月 9 日当地时间 20:00 开始。北京的小明在晚上 8 点打开电视,却发现实况直播早已进行一个小时了。造成这种现象的原因是

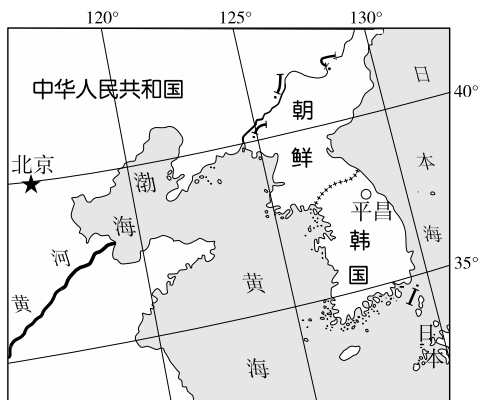


图 13

- 小明家的表慢了
 - 地球的公转
 - 媒体的消息有误
 - 地球的自转
- 如果你来到韩国平昌,要去观看现场比赛,需要携带一幅
 - 世界政区图
 - 亚洲地形图
 - 韩国旅游图
 - 平昌交通图

法国作家儒勒·凡尔纳的小说《格兰特船长的儿女》讲述了英国公爵率领探险队搜救格兰特船长的故事。探险队在10月到达南美大陆,沿着南纬37°进行了为期一个月的搜救活动,依次途经图14中的①、②、③、④四地。据此完成27~29题。

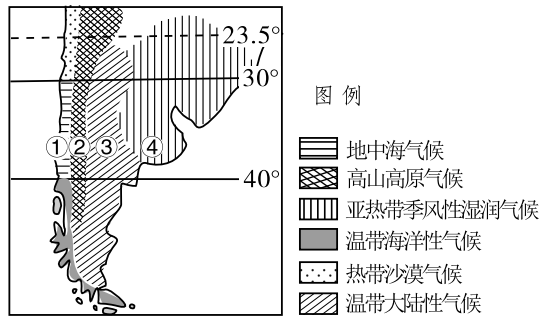


图14

27. 探险队在途中可能遭遇到的自然灾害是
 A. ①—寒潮冻害 B. ②—地震灾害 C. ③—暴雨洪涝 D. ④—沙尘暴
28. 小说里有如下描述:“10月30日,太阳在热雾中升起,苦的是草原里没有可蔽荫的地方。”干渴的探险队终于找到一个有淡水河流汇入的盐湖,但却发现“湖水完全干涸了”。这个盐湖可能位于
 A. ① B. ② C. ③ D. ④
29. ①地和③地气候和景观迥异,主要影响因素是
 A. 纬度位置 B. 半球位置 C. 地形 D. 季风

读图15,完成第30、31题。

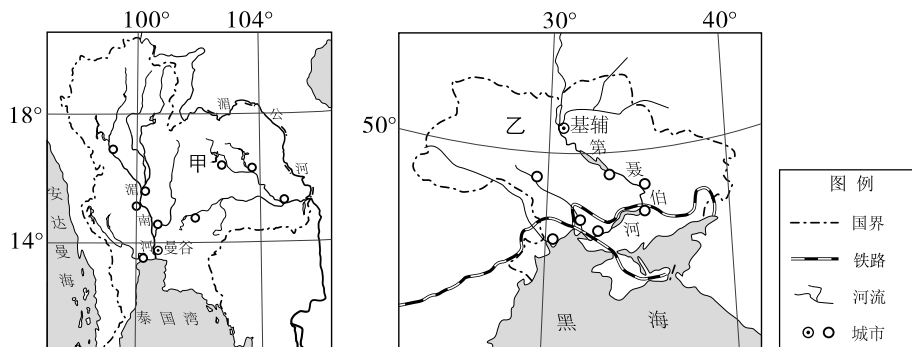


图15

30. 对比乙国境内的河流,甲国的河流
 ①流向相反 ②结冰期长 ③同属外流河 ④支流众多
 A. ①② B. ①③ C. ②④ D. ③④
31. 图中两区域的共同特点是
 A. 位于中纬度 B. 城市多沿河分布
 C. 南临印度洋 D. 交通以水路为主

据联合国粮食及农业组织报告显示,世界上一些区域仍大量伐薪烧炭。读图 16 和图 17,完成 32~34 题。

2014 年全球木炭生产区域格局(%)

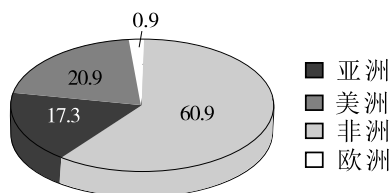


图 16

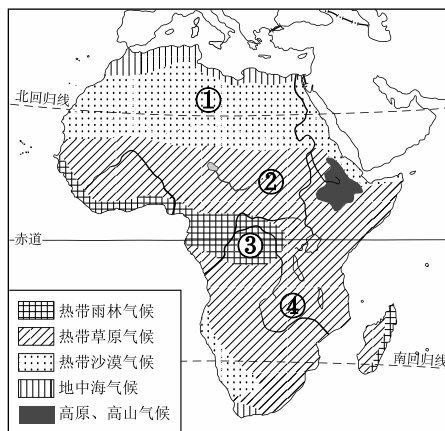


图 17

32. 世界上伐薪烧炭问题主要分布在
- A. 非洲、欧洲 B. 世界上人口最多的大洲
- C. 亚洲、大洋洲 D. 发展中国家为主的大洲
33. 读图 17, 非洲主要的伐薪烧炭区域可能是
- A. ① B. ② C. ③ D. ④
34. 非洲木炭生产迅猛发展, 其影响可能是
- A. 改变单一经济 B. 提高粮食产量 C. 改善环境质量 D. 加剧水土流失

日本有一座无人小岛(图 18), 2013 年因一次剧烈的火山喷发, 自海平面上升了约 25 米, 一年后面积已接近 230 万平方米。随着火山持续活动, 该岛屿至今仍在自动“长高”“长大”。据此完成 35~37 题。

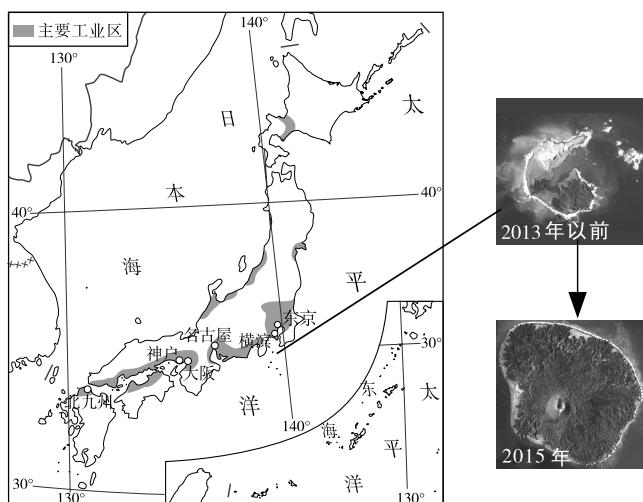


图 18

35. 小岛不断“长高”、“长大”,体现了
- A. 海陆分布
B. 海陆变迁
C. 海平面上升
D. 地球运动
36. 日本多火山、地震,原因是地处
- A. 板块交界地带
B. 板块的内部
C. 亚欧大陆东侧
D. 大洋的边缘
37. 每当日本的太平洋沿岸发生大地震,往往经济损失巨大,而人员伤亡小,主要原因是
- ①工业区和大城市集中分布于群岛的内部,一旦受灾损失巨大
②原料和产品严重依赖沿岸港口贸易,受灾后连带性损失巨大
③国民防灾减灾意识强,防震训练有素,有效保障了人员安全
④城市防震设施先进,建筑材料轻薄,大大减少了人员的伤亡
- A. ①②③
B. ①②④
C. ①③④
D. ②③④

图 19 为世界某区域的城市和乡村景观。a 图是城市贮水塔,每个球形贮水塔能储水 100 万加仑。b 图是在沙漠里抽取地下水进行喷灌的圆形农田。读图,完成 38~40 题。



a



b

图 19

38. 乡村和城市的本质区别是
- A. 生产方式不同
B. 自然条件不同
C. 人口多少不同
D. 经济水平不同
39. 据图判断,该区域的突出的自然环境特征是
- A. 水资源很匮乏
B. 石油资源丰富
C. 气候温和湿润
D. 灌溉农业发达
40. 图 a 中的贮水塔是该国家的标志性建筑,在建筑风格上融入了当地宗教建筑的特征。该区域的主要宗教是
- A. 佛教
B. 伊斯兰教
C. 基督教
D. 道教

第二部分 综合题(共 50 分)

41. “万里茶路”是晋商明末清初开辟的从武夷山到俄罗斯的茶叶贸易通道,总长 5000 多公里,纵贯祖国南北方,与“丝绸之路”齐名。据图文材料,回答下列问题。(14 分)

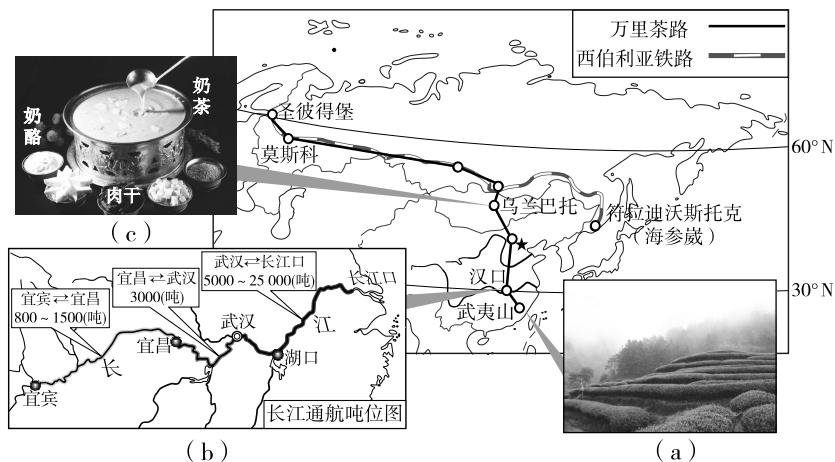


图 20

- (1)武夷山自古“茶以山名,山以茶显”。如图 20(a),茶叶喜温喜湿,要求地形排水良好。试从地理位置、气候和地形中任一方面,说明武夷山地区出产名茶的优势自然条件: _____, _____。
- (2)汉口是武汉三镇之一,自古就是我国重要的商贸集散地,被誉为“楚中第一繁盛处”。这主要得益于_____ (运输方式)的便利。读图 20(b),武汉位于长江_____游,其以下河段可以通航_____吨级以上轮船,原因是该河段_____ (河流特征),航道水深。
- (3)“万里茶路”深刻影响了沿线国家的饮食文化。如蒙古国就有“宁可一日无食,不可一日无茶”的说法。图 20(c)是蒙古奶茶,体现了当地_____业(农业部门)和茶文化的有机结合。
- (4)俄罗斯最主要的交通线_____基本和“万里茶路”线路一致,连接了位于该国_____部的主要城市。沿途可以看到大面积的_____ (植被)。
- (5)在“万里茶路”沿途可以看到图 21 中的民居聚落。请你任选一类民居,描述其特征,并分析其与自然环境的关系。



①武夷山的下梅古镇

②蒙古包

③俄罗斯木屋

图 21

(6)2016年6月,响应习近平主席的倡议,在“一带一路”框架下,中蒙俄三国元首签署了《中蒙俄经济走廊规划纲要》,“万里茶路”古通道由此焕发了新的生机。

共建“中蒙俄经济走廊”的意义是_____ (多项选择)。

- A. 加强欧洲和非洲间的贸易,促进世界经济一体化
- B. 在“共商、共建、共享”原则下,实现合作共赢
- C. 利用既有的国际合作条件,促进区域的共同发展
- D. 利于我国向俄罗斯大量出口能源,进口工业产品

42. 瑞士被称为“欧洲屋脊”和“世界滑雪天堂”。读图文材料,回答下列问题。(12分)

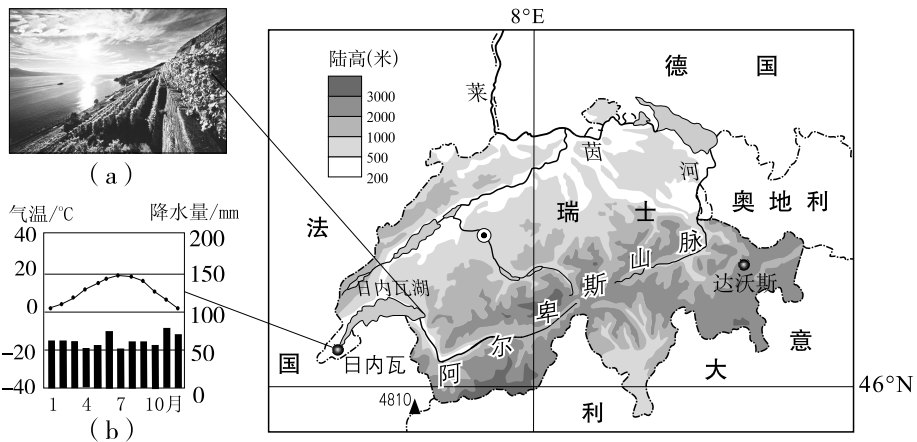


图 22

材料 1:瑞士达沃斯小镇拥有欧洲最大的高山滑雪场,冬天每平方米的降雪总量最多可以达到 5 米以上,积雪期从 10 月开始直到来年的 6 月份。其气候资料如表 1:

(表 1)

	1 月	2 月	3 月	4 月	5 月	6 月	7 月	8 月	9 月	10 月	11 月	12 月
气温 ($^{\circ}\text{C}$)	-4.9	-4.6	-1.3	2.2	7.1	10.2	12.4	11.9	8.6	5.1	-0.7	-3.8
降雪量 (mm)	90	77.7	67.3	50.9	13.4	3.3	0.6	1	4.6	17.2	66.3	76.1

材料 2:图 22(a)是瑞士日内瓦湖畔的世界文化遗产地——拉沃梯田,也是瑞士著名的葡萄酒产地。800 多年来,人们在陡坡上用石头垒成道道石墙,在上面堆积土壤,建成梯田。拉沃梯田被称为“三个太阳眷顾的福地”——白天的“三个太阳”,即天上的太阳洒下的充沛阳光,日内瓦湖水的光线反射和石头梯田对热量的保存,促进了葡萄的光合作用,同时也加大了昼夜温差,使糖分得以加倍累积,成为生产高品质葡萄酒的保证。

(1)瑞士从海陆位置看,属于_____国;其地势特征是_____;其河流多发源于_____ (地形区)。

(2)读图 22(b)和材料,瑞士名城日内瓦的气候特征是_____。与之相比,达沃斯年均气温较_____;降水以降雪为主,降雪量集中于_____ (时间)。两地气候差异的主要原因是_____不同。

(3)以达沃斯为例,试说明瑞士成为“世界滑雪天堂”的优势自然条件是_____。

(4)读图 22(a)和材料,梯田有利于在山区保持_____。“三个太阳眷顾的福地”体现了当地人民因地制宜,巧妙改善了葡萄种植的_____条件(多项选择),从而达到了人和自然的“完美对话”。

- A. 光热 B. 水分 C. 昼夜温差 D. 土壤

43. 图 23 和图 24 是某校同学在地理探究学习中绘制的澳大利亚和巴西的“卡通地图”。读图,回答下列问题。(12分)



图 23



图 24

(注:图中灰色部分原为绿色,表示地形。常规图例略。)

(1)如果想说明国家在“五带”中的位置,两图中需要共同添加_____线。

读图 23,澳大利亚的海陆位置特点是_____,_____;与之相比,图 24 需要改进的地方是在大陆东侧补充_____。

(2)从地理位置和地形特征综合分析,澳大利亚和巴西两个国家中,独占一个大陆的国家是_____;以森林和草原为主的国家是_____;沙漠广布的国家是_____。

(3)两国的人口和城市都集中在国家的_____部,共同原因是那里不仅沿海,且纬度较_____ (高/低),使_____ (自然)条件较适合人居住。

(4)两幅“卡通地图”,表现了绘图同学对该国家地理环境独特性的理解。请在每幅图中任意选择一个信息,结合当地自然环境或人文环境特征背景,各简写一段解说词:

图 23: _____

图 24: _____

44. 某体育网站刊登一条会员活动信息：“南极圈、南乔治亚岛、福克兰群岛—最完美的南极”探险活动；主办单位：中国科学探险协会；活动时间：2017年12月21日—2018年1月17日（28天）。据图文材料，回答下列问题。（12分）

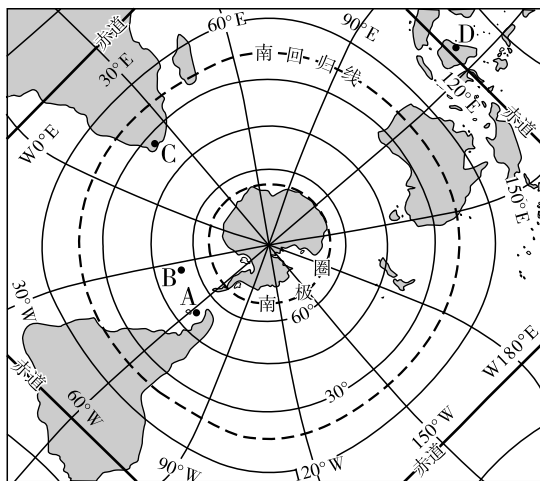


图 25




图 26

(1) 图 25 采用了梅花投影法制作，可以更好地展现南极地区与其他大陆的关系。图中 A、B、C、D 四地中，位于低纬度的是_____。A 位于_____（东/西）半球；C 位于_____洲；D 位于 C 地的_____方向。

(2) 探险活动选择在 12 月至次年 1 月，主要原因是此时段南极地区的气温比较_____，南极圈以南地区大部分处于_____（昼夜状况）。

某位对探险活动感兴趣的网友搜集到一些相关信息，据材料回答第(3)、(4)小题。

材料 1：南极大陆气候酷寒，是世界“寒极”；年均降水量只有 55 mm，是世界淡水储量最小的大陆；南极大陆上覆盖着平均厚度 2000 米的冰盖，素有“冰雪高原”之称，海拔高度仅次于亚洲。

(3) 材料 1 中有错误信息。请找到其中两处错误原文：错误①_____；错误②_____。

材料 2：南乔治亚岛(55.22°S, 31.88°W)大部分被冰雪覆盖，却被称为“南极野生动物的天堂”，尤其是阿德利企鹅的主要栖息地之一(如图 26)。但过去 30 年间，由于海冰融化，食物减少，阿德利企鹅数量减少了 65%。

(4) 据材料 2 分析，南乔治亚岛位于图中 A、B、C、D 四地中的_____地。导致南极企鹅数量减少的主要环境问题是_____。

(5) 如果你有幸参加这次南极探险旅游活动，你认为旅途中应注意的问题有哪些？（可以从旅行安全或环境保护方面考虑，至少答出两条注意事项。）

北京市西城区 2018 年九年级统一测试

地理试卷答案及评分标准

2018.4

一、选择题(每小题 1 分,共 40 分)

题号	1	2	3	4	5	6	7	8	9	10
答案	A	C	C	B	C	D	B	C	B	B
题号	11	12	13	14	15	16	17	18	19	20
答案	C	B	C	C	B	A	B	B	A	D
题号	21	22	23	24	25	26	27	28	29	30
答案	D	A	B	B	D	D	B	C	C	D
题号	31	32	33	34	35	36	37	38	39	40
答案	B	D	C	D	B	A	D	A	A	B

二、综合题(共 50 分)

41. (14 分。第(5)题 2 分,第(6)题 2 分,其余每空 1 分。)

(1) 纬度较低(地处亚热带),光热充足/雨季长(属于亚热带季风气候),降水丰沛/山地丘陵为主(海拔高或地势起伏大),排水良好(任答一方面,逻辑正确,合理即可)

(2) 内河航运(水运) 中 5000 水量较大(水位较高/江宽水阔)

(3) 畜牧

(4) 西伯利亚铁路 南 针叶林(森林)

(5) 任选一类民居,描述其材质、结构或功能任一特点(1 分),说明该特点与当地地形、气候、植被等任一自然环境方面的联系(1 分)。(合理即可)

(6) BC

42. (12 分。第(4)题第二空 2 分,其余每空 1 分。)

(1) 内陆 南高北低 阿尔卑斯山脉

(2) 全年温和湿润 低 冬季和春季(11 月至次年 4 月) 海拔(地势/地形)

(3) 海拔高(多高山)/降雪量大/积雪期长(任答两项)

(4) 水土(土壤肥力) AC

43. (12 分。每空 1 分。)

(1) 南回归(纬) 东临太平洋 西临印度洋 “大西洋”(或海洋名称)

(2) 澳大利亚 巴西 澳大利亚

(3) 东南 高 气候

(4) 略(合理即可,2 分)

44. (12 分。第(5)题 2 分,其余每空 1 分。)

(1) D 西 非 东北

(2) 高 极昼(昼长夜短)

(3) 错误①:是世界淡水储量最小的大陆 错误②:海拔高度仅次于亚洲。

(4) B 全球变暖

(5) 略(合理即可,2 分)